


# OKULA KABUL VE BURSLULUK Sınavı


Adı Soyadı : .....

Sınıfı : .....

Okulu : .....



13. 14. 15. 16. 17. 18. 19. 20. 21. 22. 23. 24. 25. 26. 27. 28. 29. 30. 31. 32. 33. 34. 35. 36. 37. 38. 39. 40. 41. 42. 43. 44. 45. 46. 47. 48. 49. 50. 51. 52. 53. 54. 55. 56. 57. 58. 59. 60. 61. 62. 63. 64. 65. 66. 67. 68. 69. 70. 71. 72. 73. 74. 75. 76. 77. 78. 79. 80. 81. 82. 83. 84. 85. 86. 87. 88. 89. 90. 91. 92. 93. 94. 95. 96. 97. 98. 99. 100.



1. Bu bölümde 12 soru vardır.
2. Cevaplarınızı, cevap kağıdının TÜRKÇE testi için ayrılan kısmına işaretleyiniz.

1.

Adı: Nuri

Soyadı: Kalemci

Sınıfı: 2-A

Numarası: 39

Kitap okumayı seviyor musunuz?



Evet



Hayır

Ne sıklıkla kitap okuyorsunuz?



Her gün



Ayda bir



Yılda bir



Hiç okumam

Ne tür kitaplar okuyorsunuz?



Masal



Hikâye



Şiir

Nuri'nin okul kütüphanesinde doldurduğu forma göre aşağıdakilerden hangisi söylenebilir?

- A) Nuri, 2. sınıfta ve hikâye yazmayı çok seven bir öğrencidir.
- B) Nuri, kitap okumayı sevmese bile her gün hikâye okuyan bir öğrencidir.
- C) Nuri, kitap okumayı seven ve her gün kitap okuyan bir 2. sınıf öğrencisidir.

2.

Türkiye'nin deniz, göl ve akarsuları su ürünleri bakımından büyük öneme sahiptir. Sularımızda tatlı ve tuzlu su balıkları avlanır. Ülkemizde balıkçılığın en yaygın olduğu yer ise Karadeniz'dir.



Yukarıdaki metni okuyan Filiz öğretmen, öğrencilerine Türkiye'de ne tür balıkların avlandığı sorusunu yöneltmiştir.

Soruya hangi öğrenci yanlış cevap vermiştir?

A)



Tatlı su balıkları

B)



Dingin su balıkları


C)

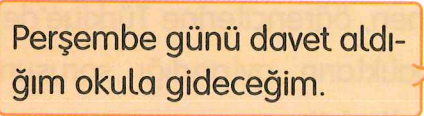
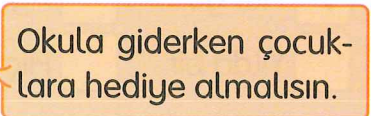


Tuzlu su balıkları

3. Ahmet ve Ali sohbet etmektedirler. Ahmet "davet" kelimesinin eş anlamlısını, Ali de "armağan" kelimesinin eş anlamlısını cümlesinde kullandığına göre, hangi seçenekte iki arkadaşın diyalogu verilmiştir?

A)    

B)    

C)    

4.

Anneciğim, bugün eve gelince beni parka götürür müsün?

Verdin sözünü o zaman.

Evet. Geldiğinde seni parka götüreceğim.

Hangi renk konuşma balonunda kurallı bir cümle bulunmamaktadır?

- A) Sarı B) Pembe C) Mavi

5.

Suyu boşa harcamak geleceğimizi karartmaktır. İki kere sifon çekince, diş fırçalarken açık bırakılan musluktan iki dakika su aktıkça, elde bulaşık yıkadığımız iki dakikada yaklaşık 25 litre su harcanır.

Metnin konusu hangi seçenekte verilmiştir?

- A) Sıvı ölçüleri
- B) Su israfı
- C) Sabırlı olma

6.



Figen

Yaz mevsiminde ..... kıyafetler giyeriz.

Figen'in konuşmasında verilmeyen yere gelmesi gereken sözcüğün zıt anlamı aşağıdaki cümlelerden hangisinde bulunmaktadır?

- A) Abur cubur yiyecekler tüketmemeliyiz.
- B) Aşırı yağın kardan yollar kapandı.
- C) Ceylin, kalın bir kitap okuyor.

7.



Yukarıdaki hikâye haritasına en uygun cümle hangi seçenekte verilmiştir?

- A) Dilek okula sabahları erken gelir.
- B) Bu sabah okulda Dilek ile buluştum.
- C) Dilek bu sabah okula geç kaldı.

8.

- I. Özel adlar büyük harfle başlar.
- II. Şiir dizeleri büyük harfle başlar.
- III. Cins isimler büyük harfle başlar.

Büyük harf kurallarından hangisi yanlış verilmiştir?

- A) III
- B) II
- C) I

9.

Doğadaki dostumuz ormanlar gezegenimiz için en önemli zenginlik kaynağıdır. Faydaları saymakla bitmez. En önemli faydası ise bizim için hayati önemi olan oksijeni üretmesidir. 40 kişinin bir saatte havaya verdiği karbondioksiti, yetişkin bir çam ağacı bir saatte oksijene döndürür.

Yukarıda verilen metne en uygun başlık hangisidir?

- A) Doğa
- B) Çam Ağaçları
- C) Ormanlar

10. Aşağıdaki öğrencilerden hangisinin söylediği metin türü şiidir?

A)



Kırmızı Başlıklı Kız

B)



İstiklâl Marşı

C)



Keloğlan Masalı

11.

- I. Eyvah, süt taşı ( )
- II. Suat'ın yazısı daha güzel ( )
- III. Yaşasın ( ) Birinci oldum.

Yukarıdaki cümlelerden kaç numaralı olanın yay ayraçla belirtilen kısmına ünlem işareti (!) gelmez?

- A) I
- B) II
- C) III

12.



Yukarıdaki görsele göre aşağıdakilerden hangisi söylenemez?


- A) Kızlardan birinin üzerinde yeşil ceket vardır.
- B) İki kız yanyana erkekler ise onların ortalarında.
- C) Erkeklerin ikisi de pantolon giymiştir.

**TÜRKÇE TESTİ BİTTİ.**

**MATEMATİK TESTİNE GEÇİNİZ.**

1. Bu bölümde 12 soru vardır.
2. Cevaplarınızı, cevap kağıdının MATEMATİK testi için ayrılan kısmına işaretleyiniz.

1.



Yukarıdaki teraziye dengelemek için aşağıdakilerden hangisi yapılamaz?

- A) Terazinin sol kefesinden 10 g'lık 2 adet ağırlık alıp sağ kefeye koyarsak terazi dengelenir.
- B) Terazinin sol kefesinden 25 g, 10 g ve 5 g'lık ağırlıklardan 1'er adet alırsak terazi dengelenir.
- C) Her iki kefedenden de 25 g'lık tüm ağırlıkları alırsak terazi dengelenir.

2.



Aynı takımda oynayan iki basketbolcunun bir sezonda attıkları sayılar aşağıdaki gibidir:

- 1. maçta Arda, Mehmet'ten 4 fazla,
- 2. maçta Mehmet, Arda'dan 7 fazla,
- 3. maçta Arda, Mehmet'ten 3 eksik,
- 4. maçta Mehmet, Arda'dan 7 eksik sayı atmıştır.

Attıkları sayı toplamı 117 olduğuna göre hangi seçenekte verilen tablo doğrudur?

A)

|        | Arda | Mehmet |
|--------|------|--------|
| 1. Maç | 12   | 8      |
| 2. Maç | 9    | 16     |
| 3. Maç | 17   | 20     |
| 4. Maç | 21   | 14     |

B)

|        | Arda | Mehmet |
|--------|------|--------|
| 1. Maç | 10   | 6      |
| 2. Maç | 8    | 15     |
| 3. Maç | 16   | 19     |
| 4. Maç | 19   | 12     |

C)

|        | Arda | Mehmet |
|--------|------|--------|
| 1. Maç | 13   | 9      |
| 2. Maç | 8    | 15     |
| 3. Maç | 16   | 20     |
| 4. Maç | 20   | 14     |

3.



Bir okuldaki 2/A sınıfında 18 öğrenci bulunmaktadır. 2/B sınıfındaki öğrenci sayısı 2/A sınıfından 4 fazladır. 2/C ve 2/D sınıflarının toplam mevcudu ise 2/A ve 2/B sınıflarının toplam mevcudundan 5 fazladır.

**Buna göre bu okuldaki toplam 2. sınıf öğrencisi sayısı kaçtır?**

- A) 85      B) 75      C) 45

4.

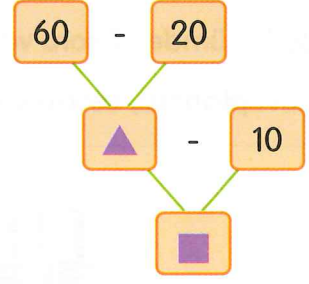


Yukarıdaki otobüs ilk duraktan 34 yolcu ile hareket etti. İkinci durakta 13 yolcu indi ve 4 yolcu bindi.

**Buna göre, bu otobüs ikinci durakta kaç yolcu ile hareket etmiştir?**

- A) 21      B) 25      C) 43

5.



Yukarıdaki şemada bulunan ▲ ve ■ sembollerinin yerine hangi sayılar getirilmelidir?

- A) ▲ = 50      ■ = 40  
 B) ▲ = 80      ■ = 90  
 C) ▲ = 40      ■ = 30

6.



Suat

Dün 35 sayfa kitap okudum. Bugün ise dünden 7 sayfa daha az kitap okudum.

Dün Suat'ın bugün okuduğundan 10 sayfa daha fazla kitap okudum. Maalesef bugün hiç kitap okuyamadım.




Orçun

**Yukarıdaki çocuklar iki gün boyunca toplam kaç sayfa kitap okumuşlardır?**

- A) 122      B) 118      C) 101



7.



Yukarıdaki köstebeklerden biri tarladaki numaralandırılmış alanlardan en küçük sayının olduğu yere, diğeri ise en büyük sayının olduğu yere yuva yapacaktır.

**Buna göre köstebekler hangi sayıların olduğu yerlere yuva yapacaklardır?**

A) -

B) -

C) -

8.

|    |    |    |    |    |    |    |    |    |    |
|----|----|----|----|----|----|----|----|----|----|
| 1  | 2  | 3  | 4  | 5  | 6  | 7  |    | 9  | 10 |
| 11 | 12 | 13 | 14 | 15 | 16 | 17 | 18 | 19 | 20 |
| 21 | 22 | 23 | 24 | 25 | 26 | 27 | 28 | 29 | 30 |

Yukarıdaki tavşan bulunduğu kutudan başlayarak dörder dörder zıplayacaktır.


**Buna göre tavşan hangi sayıların olduğu kutulardan geçecektir?**

A) 4 - 8 - 12 - 16 - 20 - 24

B) 8 - 10 - 12 - 14 - 16 - 20

C) 8 - 12 - 16 - 20 - 24 - 28

9.



Yukardaki yumurta sayısı için aşağıdakilerden hangisi söylenemez?

- A) 46 adet yumurta vardır.
- B) 6 onluk ve 4 birlikten oluşmaktadır.
- C) 4 onluk ve 6 birlikten oluşmaktadır.

10.



■ -21- ■  
29-33-37  
41-45-49

Elif



11-13-15  
■ -19-21  
■ -25-27

Gökhan



8-11-14  
■ -20- ■  
26-29-32

Müge

Yukarıdaki öğrencilerin oluşturdukları sayı örüntülerinde bazı rakamlar gizlenmiştir.

**Hangi öğrencilerin örüntülerinde gizlenen rakamlar aynıdır?**

- A) Elif ve Gökhan
- B) Gökhan ve Müge
- C) Müge ve Elif

11.




Tülay, kumbarasında biriktirdiği paraları saydığında yaklaşık 90 ₺ olduğunu görür.

Buna göre aşağıdakilerden hangisi Tülay'ın biriktirdiği para miktarı olamaz?

- A) 96 ₺      B) 92 ₺      C) 87 ₺

12.



Yukarıdaki öğrenciler ellerindeki kartlarda bulunan işlemlerin önce tahmini sonuçlarını ve daha sonra gerçek sonuçlarını bulacaklardır.

Buna göre hangi öğrencinin tahmini işlem sonucu ile gerçek sonucu arasındaki fark en fazladır?

- A) Ali      B) Pırl      C) Uras

MATEMATİK TESTİ BİTTİ.

HAYAT BİLGİSİ TESTİNE GEÇİNİZ.

1. Bu bölümde 10 soru vardır.
2. Cevaplarınızı, cevap kağıdının HAYAT BİLGİSİ testi için ayrılan kısmına işaretleyiniz.

1. I. Oyun oynarken kazanmak için ..... yapmamalıyız.  
II. Oyunda kazanmak da ..... de vardır.  
III. Oyunlarda kazananı ..... etmeliyiz.

Aşağıda verilenlerden hangisi yukarıdaki ifadeleri tamamlayan sözcüklerden değildir?

- A) dostluk
- B) tebrik
- C) kaybetmek

2.



Aşağıdaki cümlelerden hangisi yukarıdaki krokide bulunan okulda okuyan bir öğrenciye aittir?

- A) Annem okulumun karşı çarprazındaki hastanede çalışıyor.
- B) Okulumun sağındaki çiçekçiden öğretmenime çiçek aldım.
- C) Beslenme teneffüsü için okulunun yanındaki dükkandan poğaç aldım.

3.



Babamın kardeşi: Serpil  
Annemin kardeşi: Cemil  
Annemin annesi: Fikriye

**Suzanın akrabaları hangi seçenekte doğru verilmiştir?**

- A) Halası Serpil, amcası Cemil, anneannesi Fikriye'dir.
- B) Teyzesi Serpil, dayısı Cemil, anneannesi Fikriye'dir.
- C) Halası Serpil, dayısı Cemil, anneannesi Fikriye'dir.

4.

Evimizde bulunan kaynakları tasarruflu kullanmalıyız.

**Buna göre aşağıdaki görsellerden hangisinde tasarruflu davranış sergilemeyen bir çocuk vardır?**

A)



Boşa yanmasın, söndüreyim.

B)



Kapatalım, israf olmasın.

C)



Dağıldılar, kırıldılar ama yenisiyle değiştirince sorun olmaz.

|    |  |   |
|----|--|---|
| 5. | Konuşan kişiyi dinlemeli, kişinin konuşması bitince söz alıp konuşmalıyız. | ✓ |
|    | Sorunun tamamını dinledikten sonra cevap vermelidir.                       | ✓ |
|    | Grup çalışmalarında en çalışkan öğrenciye en fazla görev verilmelidir.     | ✗ |

Yukarıdaki çalışmayı doğru tamamlayan Aysun'un aşağıdaki davranışlardan hangisini yapması beklenmez?

A)



Grup çalışmasında arkadaşlarım ve ben tek tek konuştuk ve birbirimizin sözünü kesmedik.

B)



Öğretmenimin sorunun cevabını bildiğim için bitirmesini beklemeden yanıtladım.

C)



Grup çalışmamızda eşit iş bölümü yaptık ve sürekli yardımlaş-tık.

6. "Doğru Bilgi" oyunu oynayan Önder, Faik, Zeynep ve Zehra aralarında ikili grup oluşturdu. Önder, Zehra ile, Zeynep de Faik ile bir grup oluşturdu.

**Oyunda en çok doğru cümle söyleyen grup olarak Faik ve Zeynep birinci olduklarına göre hangi cümleler oyuna ait değildir?**

A) **Zeynep:** İnsanların farklı ihtiyaç ve istekleri vardır.

**Faik:** Dondurma bir istektir.

B) **Zehra:** Kaleme ihtiyacım varken çikolata alamam.

**Önder:** İhtiyaçlarımız doğrultusunda harcama yapmalıyız.

C) **Zehra:** Dondurma öncelikli ihtiyacımdır.

**Önder:** İstekler ihtiyaçlardan önce gelir.

7.

|           |               |        |        |           |                 |       |
|-----------|---------------|--------|--------|-----------|-----------------|-------|
| Pazartesi | Hayat Bilgisi | Türkçe | Türkçe | Matematik | İngilizce       | B.E.O |
| Salı      | Hayat Bilgisi | Türkçe | Türkçe | Matematik | Akıl Oyunları   | B.E.O |
| Çarşamba  | Hayat Bilgisi | Türkçe | Türkçe | Matematik | Müzik           | B.E.O |
| Perşembe  | Hayat Bilgisi | Türkçe | Türkçe | Matematik | Folklor         | B.E.O |
| Cuma      | İngilizce     | Türkçe | Türkçe | Matematik | Görsel Sanatlar | B.E.O |

2-A sınıfı ders programı yukarıda verilmiştir. Cem pazartesi günü çantasına koyması gereken bir kitabı unutmuş bunun yerine çarşamba günü koyması gereken bir kitabı koymuştur.

**Unuttuğu ders haftada iki saat olduğuna göre Cem'in koyması gereken kitap ve onun yerine koyduğu kitap hangi seçenekte verilmiştir?**


- A) İngilizce Kitabı / Müzik Kitabı  
 B) İngilizce Kitabı / Akıl Oyunları Kitabı  
 C) Müzik Kitabı / Akıl Oyunları Kitabı
8. Derya su kaynaklarını tasarruflu kullanma ile ilgili, Muzaffer elektrik kaynaklarını tasarruflu kullanma ile ilgili, Didem ise okul araç gereçlerini tasarruflu kullanma ile ilgili slogan çalışması yapmaktadır.


**Seçeneklerde verilen hangi çalışma bu üç arkadaşın çalışmalarıyla ilgili değildir?**

- A) Boşa harcama tebeşiri, defteri,  
 Sanma tükenmez denizler gibi!
- B) Kapat köpürtürken elini,  
 Fırçalarken dişini.  
 Tasarruflu ol, düşün geleceğini!
- C) Harca harca sonu yok.  
 O zaman at kumbaraya,  
 Sana madem geliyor çok!

9. Pelin 8 yaşında esmer, mavi gözlü bir kızdır. Belgesel izlemeyi, müzik dinlemeyi çok sever ve çok güzel keman çalar.

Verilen bilgilere göre aşağıdakilerden hangisi Pelin olabilir?




10.  Toplumdaki bireylerin benzer özellikleri olduğu gibi farklı yanları da bulunmaktadır. Farklılıklar bizi özelleştirirken, benzerlikler ise birlikte yaşamamıza katkı sağlar. Bireysel farklılıklara her zaman saygı duymalıyız.


Öğretmenin söylediklerine göre hangi seçenekte farklı özelliklere saygı gösterilen bir örnek verilmemiştir?



Melisa çok yavaş yazdığı için, defterimi onun rahatlıkla görebileceği bir pozisyonda oturur ve geç kalınca benden bakabileceğini hatırlatırım.



Tüm arkadaşlarım ve ben tenffüslerde çok hareket ettiğimiz için çok susayıp, kendimizi sınıfa zor atıyor, kana kana su içiyoruz.




İşitme cihazı kullanan arkadaşımızla oyun oynarken çarpmaya, cihazına zarar getirecek bir hareket yapmamaya özen gösteririz.

**HAYAT BİLGİSİ TESTİ BİTTİ.**  
**İNGİLİZCE TESTİNE GEÇİNİZ.**



1. Bu bölümde 6 soru vardır.
2. Cevaplarınızı, cevap kağıdının İNGİLİZCE testi için ayrılan kısmına işaretleyiniz.

1.



Circle the correct answer.

- A)  Draw an apple, please.  Welcome. B)  Cut the apple, please.  You are welcome. C)  Draw an apple, please.  You are welcome.

Look at the picture, read the speech bubble and answer the questions 2 and 3.



Hello! Today is my birthday. This is my birthday cake. It's amazing.

2. How old is Esra?

Circle the correct answer.

- A) She is seven years old. B) She is eight years old. C) She is nine years old.

3. What color is Esra's birthday cake?

Circle the correct answer.

- A)  It's red. B)  It's black. C)  It's yellow.

4.

Fine, thanks.  
And you?

Good morning,  
Arda.

How are  
you?

Great, thanks.

Good morning,  
Mike.


I'm fine.  
Thank you.

Good afternoon,  
Aslı.


How old are  
you?

Circle the correct order.


A)



B)



C)



5.

Hello! What's  
your name?

My name is  
David.



Circle the correct answer.

A)

Hello! My name is Beliz.

B)

Hi! I'm David. What's your name?

C)

Hi! My name is Beliz. What's your name?

6.



This is Mike. There are two red crayons, four yellow crayons, three blue crayons and three green crayons in his pencilbox. How many crayons are there in his pencilbox?

A) There are twenty crayons.

B) There are twelve crayons.

C) There are thirteen crayons.

**SINAV BİTTİ.**

**CEVAPLARINIZI KONTROL EDİNİZ.**