

BURSLULUK SINAVI

A

B

S

Adı Soyadı :

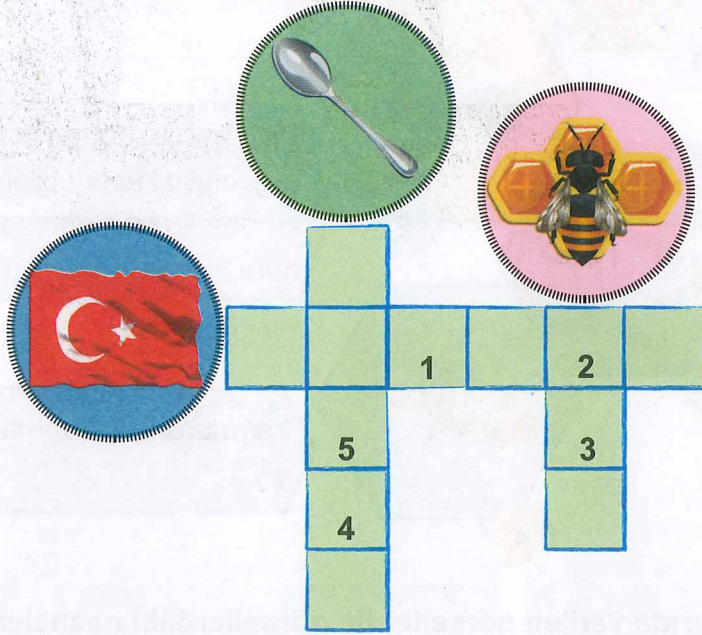
Sınıfı/Şubesi :

T.C. No. :

Okul No. :

TÜRKÇE TESTİ

1.



Yukarıdaki bulmacayı görsellere göre doldurduğunuzda numaralanan kutucuklara gelecek harfler sırasıyla aşağıdaki sözcüklerden hangisini oluşturur?

- A) BARIŞ B) YARIŞ C) YAŞLI

2.

"Meltem, devamlı çocukluğunu düşünüyordu." cümlesi aşağıdakilerden hangisi ile aynı anlamdadır?

- A) Meltem, ara sıra çocukluğunu düşünüyordu.
B) Meltem, özellikle çocukluğunu düşünüyordu.
C) Meltem, sürekli çocukluğunu düşünüyordu.

3.

1. Kuşkusuz bu da kolay bir iş değildir.
2. Öncelikle okuyucu, yazarla iş birliği yapar.
3. Sonuç olarak iyi okuyucu, yazarı en iyi anlayandır.

Yukarıda numaralanmış cümlelerin anlamlı bir metin olması için doğru sıralama aşağıdakilerden hangisidir?

- A) 3 - 2 - 1 B) 1 - 2 - 3 C) 2 - 1 - 3

4.

1

2

3

4

Genellikle plajlarda, bahçelerde kullanılan büyük güneşlik

Bir sapın üzerinde esnek tellere gerilmiş, açılıp kapanabilen; yağmur, su geçirmez kumaştan yapılmış, elde taşınabilir eşya

Yağmurdan korunmak için üste giyilen giysi

Yukarıda verilen görseller ile görsellerdeki nesnelerin tanımları eşleştirildiğinde hangi nesne açıkta kalır?

A) 4

B) 3

C) 2

5. Aşağıdaki cümlelerin hangisinde büyük harfin yazımıyla ilgili hata yapılmamıştır?

A)

Ulus, ankara'nın en eski semtlerinden biridir.

B)

Türkiye, iki Kıtayı birbirine bağlayan bir ülkedir.

C)

Trabzon, Karadeniz kıyısında bir şehirdir.


6. Aşağıdaki cümlelerden hangisinin sonunda soru işareti kullanılır?
- A) Kitap okumadan, bilgi edinmeden mi geçiriyor bu insanlar hayatlarını
B) Okumadan mı yazdın, yazmadan mı okudun anlayamadım
C) Gerçek bilgi insanın yüreğinde midir diye sordum
7. "Beyaz" sözcüğünün eş ve zıt anlamlıları aşağıdakilerin hangisinde doğru verilmiştir?
- A) ak-al B) al-siyah C) ak-siyah

Minik kız, çekirdeğin üzerine gübre ile karışık toprak attı. Erik çekirdeği beklemeye başladı. Az sonra bir serinlik geldi. Çekirdek, üzerine su döküldüğünü anladı. Aradan günler, haftalar geçti. Erik çekirdeği birisi tarafından ara sıra sulandığını fark ediyordu. Bir gün toprağın dışına çıktığını fark etti. Artık ışığı görüyordu. Erik çekirdeği büyümüştü. Güldü yüzü çekirdeğin. Küçük de olsa bir fidandı artık.

8, 9 ve 10. soruları parçaya göre cevaplayınız.

8. Bu metne en uygun başlık aşağıdakilerden hangisidir?
- A) Elma Ağacı
B) Çekirdekten Fidana
C) Gün Işığı


9.



Bu metinden yola çıkarak görsellerin oluş sırasına göre doğru dizilişi aşağıdakilerden hangisidir?

- A) 1 - 2 - 4 - 3
B) 4 - 1 - 3 - 2
C) 4 - 1 - 2 - 3

10. Bu metinde geçen "Güldü yüzü çekirdeğin." cümlesinde kaç tane eş sesli sözcük vardır?



11.




Yukarıdaki afişe göre aşağıdakilerden hangisi doğrudur?

- A) Afişte sözü edilen şehirde bir orman oluşturulacaktır.
B) Şehirde ilk defa bir fidan dikim şenliği yapılacaktır.
C) Şehrin halkı ormançılık gününü uzun yıllardır şenliklerle kutlamaktadır.

12.

Dalgalandığın yerde ne korku ne keder
Gölgende bana da bana da yer ver.
Sabah olmasın, günler doğmasın ne çıkar
Yurda ay yıldızının ışığı yeter.

Yukarıda verilen şiir aşağıdakilerden hangisine yazılmıştır?



13. Yemekler harika görünüyor ama

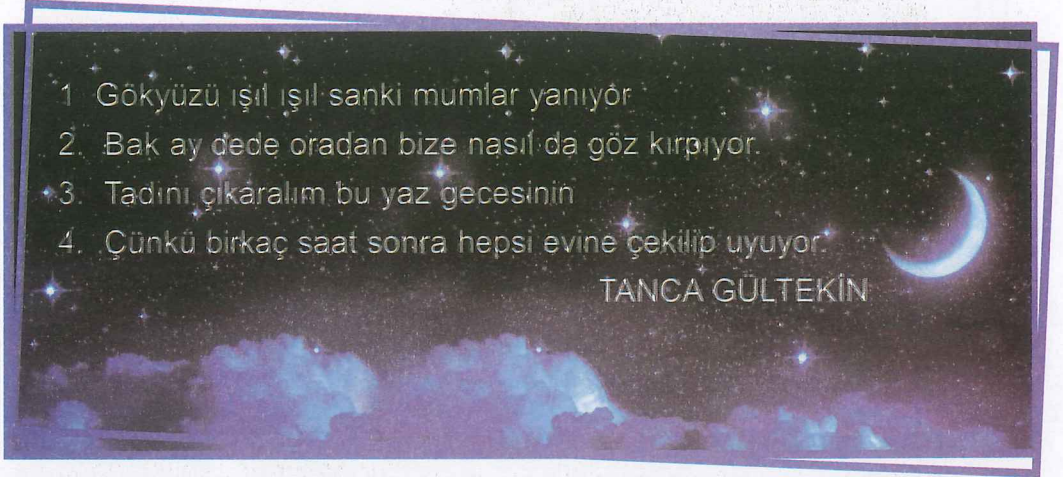
Yukarıdaki cümlede noktalı yere aşağıdakilerden hangisi getirilirse cümle anlamsız olur?

A) ben çok tokum

B) daha acıkmadım

C) hepsini yiyebilirim

14.



Yukarıda verilen şiirde hangi mısralarda hayalî unsurlar yer almaktadır?

A) 1 ve 2

B) 2 ve 4

C) 1 ve 3

15. Atatürk, annesine sevgiyle bağlıydı. Onu çocukluğundan itibaren hep sevdi, saydı. Eve her gidişinde annesinin elini öpmek Atatürk'ün alışkanlığıydı. O; subay, komutan, başkomutan olmuştu ama anasının gözünde daima Mustafa'ydı.

Yukarıdaki metin aşağıdaki hangi sorunun cevabıdır?

A) Atatürk'ün alışkanlıkları nelerdir?

B) Atatürk, hangi görevlerde bulunmuştur?

C) Atatürk'ün annesiyle olan ilişkisi nasıldı?

16. Aşağıda verilen cümlelerin hangisinde “kara” sözcüğü büyük harfle başlamalıdır?
- A) Yanağının orta yerinde kara bir ben vardı.
B) Köpeğimiz kara bize geldiğinde yirmi günlüktü.
C) Evin salonunda kara perdeler vardı.
17. Aşağıdaki cümlelerin hangisinde virgül kullanmaya gerek yoktur?
- A) Bahçede kelebekler renkli çiçekler vardı.
B) Taze ekmek sıcak simit aldım.
C) Cevizli kurabiye ve kek yaptım.
18. Aşağıdaki cümlelerin hangisinde altı çizili sözcüğün yerine “izledik” sözcüğü gelirse anlam bozulmaz?
- A) Akşam harika bir film seyrettik.
B) Sahilde kocaman deniz kabukları gördük.
C) Gün boyu vitrinlere baktık.
19. “Göz” kelimesi aşağıdaki cümlelerin hangisinde diğerlerinden farklı bir anlamda kullanılmıştır?
- A) Çocuğun gözünden yaşlar akıyordu.
B) Çekmecenin gözünden mendil çıkardı.
C) Gözleri iyi görmediği için gözlük kullanıyor.

20.

Yaşlı dede karşıdan karşıya geçecekti.

Genç olmak güzel şey doğrusu.

Yukarıdaki cümlelerde altı çizili verilen sözcükler arasındaki anlam ilişkisi aşağıdakilerden hangisidir?

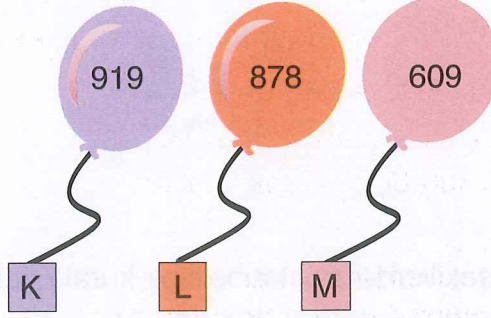
- A) Eş sesli
B) Eş anlamlı
C) Zıt anlamlı

TÜRKÇE TESTİ BİTTİ.

MATEMATİK TESTİNE GEÇİNİZ.

MATEMATİK TESTİ

1. Aşağıdaki balonlarda sayılar verilmiştir.



Hangi balondaki sayının onlar basamağındaki rakamın basamak değeri ile sayı değeri arasındaki fark 63'tür?

- A) K B) L C) M

2.



Ege ve Ece, ilçelerindeki hatıra ormanına bir hafta boyunca fidan dikmeye gittiler.

Ece'nin diktiği fidan sayısının en yakın onluğa yuvarlanmış hâli 140, Ege'nin diktiği fidan sayısının en yakın yüzlüğe yuvarlanmış hâli 200 ise aşağıdakilerden hangisi doğrudur?

- A) Ece'nin diktiği fidan sayısı 146, Ege'nin diktiği fidan sayısı 149 olabilir.
B) Ece'nin diktiği fidan sayısı 148, Ege'nin diktiği fidan sayısı 256 olabilir.
C) Ece'nin diktiği fidan sayısı 142, Ege'nin diktiği fidan sayısı 214 olabilir.

3.

$902 < 910$	$901 < 909$
$764 < 762$	$404 < 399$

Yukarıdaki karşılaştırmalardan kaç tanesi doğru yapılmıştır?

A)

3

B)

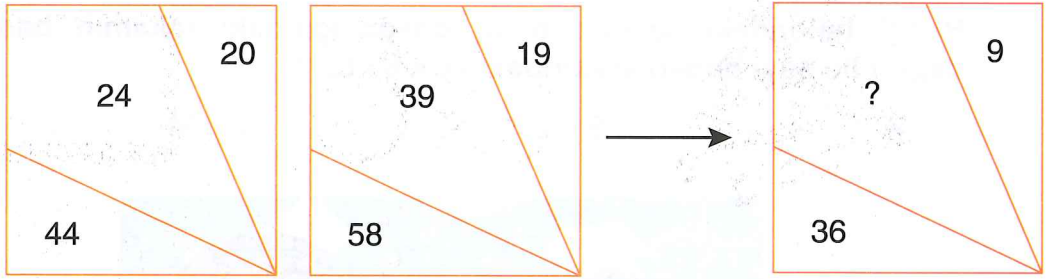
2

C)

1

4.

Aşağıdaki şekillerde sayılar belli bir kurala göre oluşturulmuştur.



Bu kural dikkate alındığında “?” yerine aşağıdakilerden hangisi yazılmalıdır?

A) 17

B) 24

C) 27

5.

	$99 - 89$	
$27 - 16$		$36 - 16$
	$45 - 25$	

Murat, yukarıdaki şekilde sonucu 10 olan işlemlerin bulunduğu kutuları boyayacaktır.


Murat'ın boyaması gereken kaç kutu vardır?

A) 1

B) 2

C) 3

6.



Ocak	Şubat	Mart	Nisan
150	160		
Mayıs	Haziran	Temmuz	
	200	210	

Ayla'nın her ay kumbarasına attığı para miktarı yukarıdaki tabloda verilmiştir.


Tablodaki sayıların oluşturduğu örüntüye göre Ayla sadece tabloda verilmeyen sayıların toplamıyla aşağıdakilerden hangisini alabilir?

A)



540 TL

B)



780 TL

C)



950 TL

7.

		45		
	33	?	41	
13	17	21	25	29

Yukarıdaki şekilde sayılar belli bir kurala göre yerleştirilmiştir.

Buna göre “?” yerine yazılması gereken sayının birler basamağında bulunan rakamın basamak değeri ile sayı değeri arasındaki fark kaçtır?

A) 27


B) 7

C) 0

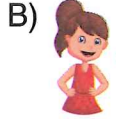
8.

Çözüm	
5	42
x 6	- 30
30	12


Hangi öğrencinin kurduğu problem yukarıdaki işlemlerle çözülemez?



A) 42 şekerim vardı. 6 arkadaşıma beşer şeker verdim. Bana kaç şeker kaldı?



B) 42 öğrenciden 30'u müzik kursuna, 6'sı resim kursuna, geri kalan öğrenciler de masa tenisi kursuna katılmıştır. Buna göre masa tenisi kursuna kaç kişi katılmıştır?



C) Tanesi 5 TL olan kitaplardan 6 tane aldım. 42 TL param vardı. Geriye kaç lira param kaldı?

9.

Şekildeki tabloda tüm satır ve sütundaki sayıların toplamı birbirine eşittir.

16	18	43
■	34	▲
40	●	12

Buna göre ■, ▲ ve ● sembolleri yerine aşağıdakilerden hangileri yazılmalıdır?

	▲	■	●
A)	32	21	35
B)	21	27	42
C)	22	21	25

10.

Fatih
İlkokuluÇamlık
İlkokulu

118

101

İki okul arasındaki basketbol maçı 118'e 101 olarak sonuçlanmıştır.

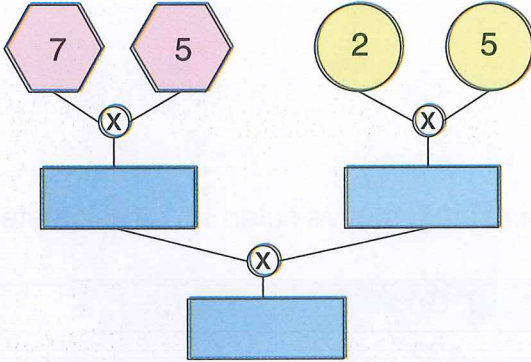
Buna göre galip gelen okul, maçı kaç sayı önde bitirmiştir?

A) 107

B) 17

C) 117

11.



Yukarıdaki şemada verilen işlemin sonucu kaçtır?

A) 350

B) 420

C) 440

12.

$$\blacktriangle \div 5 = 14$$

$$\bullet \div 3 = 20$$

$$\star \div 7 = 7$$

Yukarıda verilen işlemlere göre $\blacktriangle + \bullet + \star$ kaçtır?

A) 199

B) 179

C) 130

13. Ahmet aşağıdaki işlemleri yaparak sonuçlarını harflerle eşleştiriyor.

$10 + 20 = A$	$20 + 30 = R$
$10 + 30 = Ğ$	$20 + 40 = C$
$30 + 40 = Z$	$40 + 50 = I$

Buna göre sırasıyla 30, 40, 90, 70 sonuçlarıyla eşleşen harflerle aşağıdaki kelimelerin hangisini elde ederiz?

- A) AĞRI B) AĞAÇ C) AĞIZ

14. Aşağıdaki tabloda bir kantincinin sattığı meyve sularının sayısı gösterilmiştir.

1. Gün	2. Gün	3. Gün
124	132	?

Kantincinin 3. günde sattığı meyve suyu sayısı, ilk iki günde sattığı meyve suyu sayıları toplamından 40 fazladır.

Buna göre “?” yerine aşağıdakilerden hangisi yazılmalıdır?

- A) 256 B) 296 C) 420

15. $\blacktriangle \times 12 = 108$ işleminde “ \blacktriangle ” yerine yazılacak sayıyı bulmak için aşağıdaki işlemlerden hangisini yaparız?

- A) $108 + 12 = \blacktriangle$ B) $108 \div 12 = \blacktriangle$ C) $108 \times 12 = \blacktriangle$

16. Aşağıdaki işlemlerden hangisinin sonucu yanlıştır?

A) $7 \times 1 = 8$

B) $6 \times 0 = 0$

C) $8 \times 1 = 8$

Tabloda tişört ve gömleğin adetleri ve toplam fiyatları verilmiştir.

Ürün Adı	Adet	Toplam Tutarı
Tişört	10	370 TL
Gömlek	8	416 TL

Tabloya göre 17 ve 18. soruları cevaplayınız.

17. Tabloya göre bir tişörtün fiyatı kaç TL'dir?

A) 28

B) 37

C) 74

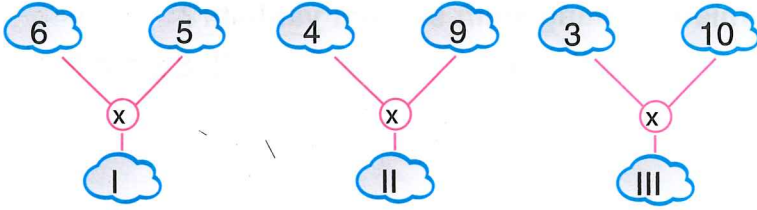
18. Bir gömlek ve bir tişörtün toplam fiyatı kaç TL'dir?

A) 89

B) 52

C) 37

19.



Yukarıda numaralanmış işlemlerden hangisinin sonucu farklıdır?

A) I

B) II

C) III

20.

Grafik: En sevilen dondurma çeşitleri

Sade	
Limonlu	
Vişneli	
Muzlu	

Her şekil, 2 kişiyi göstermektedir.

Grafik oluşturulurken sınıfın bütün öğrencilerine en sevilen dondurma çeşitleri sorulduğuna göre bu sınıfın öğrenci sayısı kaçtır?

A) 20

B) 26

C) 28

**MATEMATİK TESTİ BİTTİ.
HAYAT BİLGİSİ TESTİNE GEÇİNİZ.**

BU BÖLÜMDE CEVAPLAYACAĞINIZ TOPLAM SORU SAYISI 20'DİR.
(İLK 12 SORU HAYAT BİLGİSİ'NE AİT, SONRAKİ 8 SORU FEN BİLİMLERİ'NE AİTTİR).
Bu bölümdeki sorular "Hayat Bilgisi'ni - Fen Bilimleri'ni kullanma gücü" ile ilgilidir. Bu bölümün cevaplarını cevap kâğıdınızdaki Hayat Bilgisi bölümüne işaretleyiniz.

HAYAT BİLGİSİ TESTİ

1.

Mavi gözlüyüm.	Kitap okumaktan hoşlanırım.
Gitar çalarım.	130 cm boyundayım.
Siyah saçlıyım.	Basketbol oynuyorum.

Kendini tanıtan Esra'nın özellikleri sınıflandırıldığında aşağıdakilerin hangisi doğru olur?

A)

Özellikler	Sayısı
Fiziksel özellik	2
İlgi ve yetenekleri	4

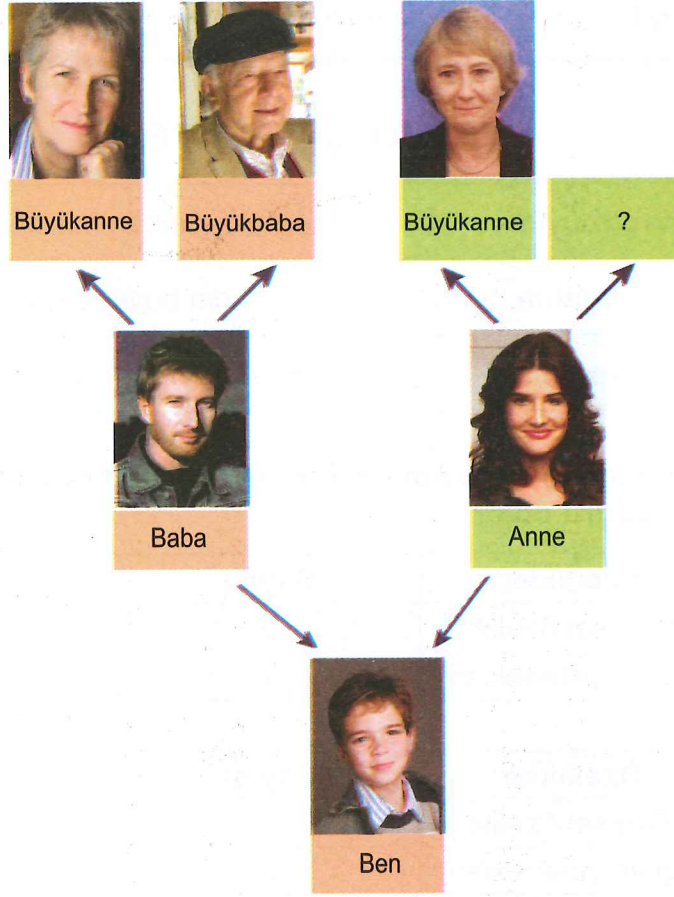
B)

Özellikler	Sayısı
Fiziksel özellik	4
İlgi ve yetenekleri	2

C)

Özellikler	Sayısı
Fiziksel özellik	3
İlgi ve yetenekleri	3

2.



Yukarıdaki şemada soru işaretiyle gösterilen yere aşağıdakilerden hangisinin fotoğrafı gelmelidir?

- A) Hala B) Amca C) Büyükbaba

3.

Şampuan	Tarak	Çamaşır deterjanı
Sabun	Tırnak makası	Diş fırçası

Yukarıdaki tabloda verilenlerden kaç tanesi kişisel bakım malzemesi değildir?

- A) 1 B) 2 C) 3

4. Aşağıdaki ulaşım araçları kendi aralarında sınıflandırıldığında hangisi dışarıda kalır?

A)



B)



C)



5.

Bayrağımız ve İstiklâl Marşı'mız bizim sembolümüzdür.

Bayrak töreninde dönerek "Hazır ol!" duruşunda dururuz.

Bayrağımıza ve İstiklâl Marşı'mıza duymalıyız.

Yukarıda verilen cümlelerde noktalı yerlere gelecek sözcükler aşağıdakilerin hangisinde sırasıyla verilmiştir?

- A) bağımsızlık - bayrağımıza - saygı
 B) bayrağımıza - bağımsızlık - saygı
 C) saygı - bağımsızlık - bayrağımıza

6. Geri dönüşümle ilgili aşağıdaki çocuklardan hangisinin ifadesi yanlıştır?

A)



Plastik, kâğıt, pil ve cam gibi maddeler geri dönüştürülebilen maddelerdir.

B)



Günlük hayatta kullandığımız plastik, kâğıt, pil ve cam gibi atıkları çöpe atmamalıyız.

C)





Kullanılmış bitkisel yağları tasarruf için tekrar kullanmalı, işi bitince lavaboya dökmeliyiz.


7.

güler yüzlü	çalışkan	kıskanç
yardımsever	tertipli	kibar
saygısız	hoşgörülü	kavgacı

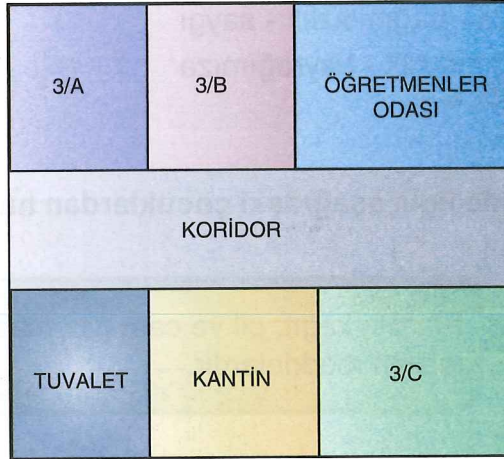
Tabloda verilen kişilik özelliklerinden kaç tanesi istenmeyen ve sevilmeyen özelliktir?

A)  1


B)  2

C)  3

8.



Emir'in sınıfı, öğretmenler odasının karşısında ve kantinin yanındadır. Krokiye göre Emir'in sınıfı aşağıdakilerden hangisidir?

A)  3/A

B)  3/B

C)  3/C

9.



Ben; mektup, tebligat, telgraf, havale, paket, koli gibi posta gönderilerini adreslere götüreren bir görevliyim.

Yukarıda mesleğini tanıtan kişi aşağıdakilerden hangisidir?

A)



B)



C)



10. Aşağıdaki çocuklardan hangisi evde üzerine düşen sorumluluğu yerine getirmemiştir?

A)




B)




C)




11. Aşağıdakilerden hangisi gününü planlayarak yaşayan bir öğrencinin ifadesi değildir?



Gece geç yatmayı severim. Ama geç yatsam da sabah erkenden kalkarım. Bazen uykumu alamadığımdan dolayı derslerde uykum gelir. Eve gidince biraz daha fazla uyurum.



Okuldan eve dönünce elimi yüzümü yıkarım. Yemeğimi yerim. Biraz dinlenirim. Ödevlerimi yaparım ve her gün aynı saatte uyurum.



Okula hazırlığımı gece yatmadan önce yaparım. Sabah kalktığımda bir kez daha haftalık ders programına göre hazırladığım çantamı kontrol ederim.

12.

1.	Evimizde gereksiz yanan lambaları ve izlenmeyen televizyonu kapatmalıyız.
2.	Evimizde sebze ve meyve yıkadığımız atık suyu değerlendirebiliriz.
3.	Paramızı gereksiz yere harcamayarak tasarruf yapabiliriz.

Yukarıdaki tabloda verilenlerden hangileri aile bütçesine katkı sağlayabilecek tasarruf yollarıdır?

A) 1 ve 2

B) 2 ve 3

C) 1, 2 ve 3

13. Dünya'mızın yüzeyinde küçük bir bölümü kaplar. Kaya, taş ve topraktan oluşur. At, fil, kedi, köpek gibi hayvanlar bu katmanda yaşar.

Yukarıda özellikleri anlatılan katman aşağıdakilerden hangisidir?

- A) Kara katmanı B) Hava katmanı C) Su katmanı

14. Aşağıdakilerden hangisi Dünya'mızın küre biçiminde olduğunu ispatlar?

- A) İç içe geçmiş katmanlardan oluşması
B) Yüzeyinde suların, karalardan daha fazla yer kaplaması
C) Bir noktadan hareket eden bir uçağın sürekli aynı yöne gitmesi sonucu başlangıç noktasına gelmesi

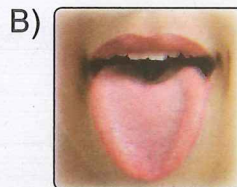
15. Aşağıda bazı duyu organlarının sağlığını korumaya yönelik davranışlar verilmiştir.

- Çok sıcak ve soğuk besinler tüketmemeliyiz.
- Sık sık duş almalıyız.

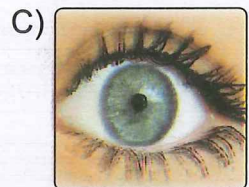
Yukarıda verilen davranışlar aşağıdaki duyu organları ile eşleştirildiğinde hangisi açıkta kalır?



Deri



Dil

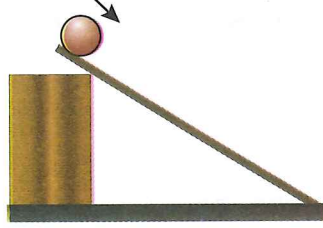


Göz

16. Aşağıdakilerden hangisini çekme kuvveti ile yaparız?

- A) Tahta yüzeye çakılmış olan çivinin çıkarılması
B) Vidalanmış olan vidanın sökülmesi
C) Kapı zil tuşuna basılması

17. Bir madde birden çok özelliğe sahip olabilir.
Sert bir madde aşağıdaki özelliklerden hangisine sahip değildir?
- A) Kırılgan B) Esnek C) Sağlam
18. Bir varlık birden fazla hareketi aynı anda yapabilir.



Görseldeki eğimli yüzeyde yuvarlanan top hangi iki hareketi aynı anda yapar?

- A) Hızlanma, dönme
B) Yavaşlama, dönme
C) Sallanma, hızlanma
19.

Madde	Hâli
I. Hava	a) Katı
II. Motorin	b) Gaz
III. Kum	c) Sıvı

Yukarıda verilen madde ve hâlleri aşağıdakilerin hangisinde doğru eşleştirilmiştir?

- A) I. a B) I. b C) I. c
II. b II. c II. b
III. c III. a III. a

20. Aşağıdakilerden hangisi maddenin hâllerinden biri değildir?
- A) Sıvı B) Katı C) Buz

HAYAT BİLGİSİ TESTİ BİTTİ.
İNGİLİZCE TESTİNE GEÇİNİZ.

İNGİLİZCE TESTİ

1.

$$5 + 7 = ?$$

What is the number?

A) eleven

B) twelve

C) twenty

2.

**Sam:** How old are you?**Tom:** _____.

A) I am old

B) I am fine

C) I am eight

3. **Wilma:** _____?**Carol:** This is a book.

A) How old is it

B) What is this

C) Where is the book

4.




Tina: Where is your father?

Betty: He is in the _____. He is making a cake.

- A) bedroom B) garage C) kitchen

5.



Sally: What color is your car?

Sue: It is _____.

- A) blue B) green C) yellow

**SINAV BİTTİ.
CEVAPLARINIZI KONTROL EDİNİZ.**