

BURSLULUK SINAVI

Bu sınavın organizasyonu Açı Yayınları tarafından yapılmaktadır.

A

B

S

Adı Soyadı :

Sınıfı/Şubesi :

T.C. No. :

Okul No. :

TÜRKÇE TESTİ



FATİH

Fatih Sultan Mehmet henüz yirmi bir yaşındayken İstanbul'u fethetmeye karar vermişti. Orduya katılacak olan halkı test etmek istedi. Bu nedenle tanınmamak için kıyafet değiştirdi ve o zamanki başkent Edirne'nin en büyük çarşısına gitti. Çarşıda bir süre dolaştı, çarşının en sonundaki dükkânlardan birkaç erzak aldı. En son dükkândan çıktıktan sonra almayı unuttuğu erzak olduğunu düşündü ve dükkâna tekrar girdi. İsteddiği erzakı söyledi. Ancak dükkân sahibi aldıklarının yeterli olduğunu ve kendisine daha fazla bir şey veremeyeceğini söyledi. Dükkân sahibi:

— Ben sana satış yaparak siftahımı yapmış oldum. Başka bir alacağın varsa şu yan tarafımdaki dükkândan al. Komşum henüz siftah etmedi.

Genç padişah, sarayına geldiğinde duygu yüklüydü. Kimseye bir söz söylemeden odasına geçti. Ellerini gökyüzüne kaldırdı: "Allah'ım sana şükürler olsun. Bana böylesine birbirine bağlı, birbirini düşünen, tok gözlü bir millete padişah olmayı nasip ettin. Ben bu milletimle değil Bizans'ı, dünyayı fethederim." dedi.

1 ve 2. soruları "Fatih" adlı metne göre cevaplayınız.

1. Metinden aşağıdaki sonuçların hangisine varılamaz?

- A) Edirne, Osmanlı Devleti'ne başkentlik yapmıştır.
- B) Dükkân sahibi, tokgözlü bir adamdır.
- C) Padişah, tüccarın kendisini tanıdığını anlamıştır.
- D) Metinde Bizans denilen yer şimdiki İstanbul'dur.

2. Padişah dükkâna ikinci kez niçin girmiştir?

- A) Aldıklarının yetmeyeceğini düşünmüştür.
- B) Unuttuğu erzak olduğu aklına gelmiştir.
- C) Tüccara fethetmeye katılıp katılmayacağını sormak istemiştir.
- D) Tüccarın siftah edip etmediğini öğrenmek istemiştir.

3.

Kıtlık

1

Sıvılarda koyuluk, yoğunluk

Kıyas

2

Küçük parçalar hâlinde doğramak

Kıvam

3

Karşılaştırmak

Kıymak

4

Gereksinim duyulan şeyin yokluğu

Kızak

5

Buz ya da kar üzerinde gitmeye yarayan tekerleksiz taşıt

Yukarıdaki sözcükleri sözlükte yer alış sırasına göre sıralayınız. Sıraladığınız sözcükleri anlamlarıyla eşleştiriniz.

Buna göre sözcüklerin anlamlarının sıralanışı aşağıdakilerden hangisi olur?

- A) 4 - 1 - 3 - 2 - 5 B) 4 - 1 - 5 - 2 - 3 C) 2 - 4 - 1 - 5 - 3 D) 2 - 3 - 1 - 5 - 4

4.

Atatürk'ün Resmi

Kürsünün üstünde bir resim;

Gözleri denizlerden mavi,

Bakışları güneşlerden sıcak.

Bu resimle başlar bizim günümüz.

Atatürk'ün resmi kürsünün üstünde bir resim;

Gözleri denizlerden mavi,

Bakışları güneşlerden sıcak.

Bu resimle başlar bizim günümüz.

Kıvançla dolar, taşar gönlümüz.

Öğretmenimiz kürsüde verdiği dersi

Dinler bizimle birlikte,

Atatürk'ün resmi.



Behçet Necatigil

“Atatürk'ün Resmi” adlı şiirde aşağıdaki duygulardan hangisi yoktur?

- A) Hayranlık B) Gurur C) Sevgi D) Korku

5.

YALIÇAPKINI

Japonya'daki yüksek hızlı trenler gelişim aşamasındayken mühendisler bir sorunu çözememişler. Trenler tünellerden çıkarken hava basıncındaki değişikliğin etkisiyle çok yüksek ve dayanılması güç bir ses çıkıyormuş. Bu ses kilometrelerce uzaktan bile duyulabiliyormuş. Bilim insanları bu sorunu yalıçapkını kuşundan esinlenerek ürettikleri bir çözüm sayesinde gidermişler. Yalıçapkınları suya hızla dalar ve balıkları yakalar. Gagasının bir kamaya benziyor oluşu sayesinde gagalarının suyu ses çıkarmadan yarması, bilim insanlarına trenin ön kısmının havayı yaracak şekilde tasarlanması fikrini vermiştir.



“Yalıçapkını” metninde anlatılanlar en genel şekilde aşağıdaki metin konularından hangisine örnek olarak yazılmış olabilir?

- A) Doğadan esinlenen icatlar
B) Hızlı trenlerin gelişimi
C) Kuşların gaga çeşitliliği
D) Bilim insanlarının zorlu yolu

6.

- | | |
|----|---|
| 1. | Öğretmenimiz de anne babamız gibi bizi hayata hazırlamaya çalışır. |
| 2. | Bir insan kendini yetiştirmek için okumalı, dil öğrenmeli, ülke gezmeli hatta kendisini yazmaya zorlamalıdır. |
| 3. | Demokratik ortamlarda farklı fikirlere saygılı olmak zorunda olduğumuzdan, her birey hoşgörülü olmak durumunda kalır. |
| 4. | Şehrini korumak zorunda olan taştan bir kale gibi, tüm hayatı çocuklarını kollamayla geçti. |

Tablodaki cümlelerle ilgili aşağıdaki yargılardan hangisine varılamaz?

- A) 1. cümlede öğretmenimiz ile anne babamız karşılaştırıldığından bu bir karşılaştırma cümlesidir.
B) 2. cümlede bir kişinin kendisini yetiştirmesi için yapılacaklar örnek verildiğinden bu bir örneklendirme cümlesidir.
C) 3. cümlede hoşgörülü olmak durumunda kalmanın sebebi söylendiğinden bu bir neden-sonuç cümlesidir.
D) 4. cümlede anne, şehrini korumak zorunda olan bir kaleye benzetildiğinden bu bir benzetme cümlesidir.

7.

Beyza

Adisyon gelince bakalım. Hesap hatası yapmasınlar.

**Emir**

Arkadaşlar abartmayın. Böyle hatalar olabilir.

**Azra**

Altı kişilik rezervasyon yaptırдық. Beş kişilik masa vermişler.

**Utku**


Neyse ki yiyecekler çok lezzetli.

**Ebru**

Madem geldik, şefin spesiyalini denemeden gitmeyelim.

**Fatih**

Bir dahakine online sipariş verelim.



Yukarıdaki diyaloglarda kimlerin konuşmasında yabancı dilden dilimize geçen bir sözcük yoktur?

- A) Utku ve Azra
C) Fatih ve Ebru

- B) Ebru ve Beyza
D) Utku ve Emir

8. Velcro ilk kez kumaş kanca ve halka bağlantı elemanı (cırt cırt) üreten ve ticari olarak pazarlayan firmadır. Cırt cırt İsviçreli elektrik mühendisi George de Mestral tarafından 1948 yılında icat edilmiştir. 1955 yılında de Mestral velcronun (cırt cırt) patentini almış ve 1950'lerin sonlarına dek ticari sürüm üretimini geliştirmiştir. Velcro sözcüğü iki Fransızca kelimenin, velours (kadife) ve crochet (kanca) birleşimi ile oluşturulmuştur. Cırt cırtlar iki ana bileşenden oluşur, iki çizgisel kumaş bant (ya da alternatif olarak yuvarlak "nokta" ya da kareler) birbirlerinin karşıt yüzeylerine kenetlenerek yapışırlar. İlk bileşen küçük kancalardan oluşur ve ikinci bileşen de küçük ve "kıllı" parçalardan oluşur. İki bileşen temas ettirildiğinde, kancalar halkaları yakalar ve geçici olarak bir bağlantı kurulmuş olur. Yüzeyler çekerek ayrıldığı zaman şeritler kendine has bir "cırt" sesi çıkarırlar. Bu nedenle "cırt cırt" olarak isimlendirilirler.

Yukarıdaki metnin türü aşağıdakilerden hangisidir?

- A) Hikâye edici metin
C) Öykü

- B) Bilgilendirici metin
D) Anı

9. Kan ter içinde odaya giren Enver, odanın içinde hızlıca dolaştı. Akşam olmuştu. Sokak lambaları yanmadan ninesinden kalan ahşap sandığı bulmalı ve babasının istediği evrakı ona götürmeliydi. Az sonra amcası da gelirdi, o zaman da babasının suçsuzluğunu ispatlayamazdı.

Olay	Enver'in bir evrakı bulmaya çalışması
Yer	Dedesinin evi
Kişi	Enver
Zaman	Akşam

Bu metinde kesin olarak belirtilmediği hâlde tabloda verilen hikâye unsuru hangisidir?

A) Zaman

B) Olay

C) Yer

D) Kişi

10. Aşağıdaki cümlelerin hangisinde yay ayracın kullanımı ile ilgili yanlışlık yapılmıştır?

- A) Birkaç yıl önce bir köyde (Ağırmat Köyü) öğretmenlik yapıyordum.
 B) Bütün kitaplara tek tek bakarken eline La Fontaine'in (La Fonten) bir kitabı geçti.
 C) Biz ona Kara Hatice (tüm Haticelerden özür dileyerek) desek de kız peynir beyazıydı.
 D) (Tolstoy) der ki "Kimse malından mülkünden memnun değil ama herkes aklından memnun."


11.

His	1
Tutsak	2
Yanıt	3
Sözcük	4
Kanıt	5
Kent	6
Değer	7

1.	Sözcüğün 4. Harfi,
2.	Sözcüğün 1. Harfi,
3.	Sözcüğün 1. Harfi
4.	Sözcüğün 2. Harfi
5.	Sözcüğün 5. Harfi
6.	Sözcüğün 4. Harfi
7.	Sözcüğün 1. Harfi

Yukarıdaki tabloya sözcüklerin eş anlamlılarını yazınız. Yazdığınız sözcüklerin belirlenen harfleri anlamlı bir sözcük oluşturmaktadır.

Bu yönergeye göre belirlenen harflerini yukarıdan aşağıya okuduğunuzda oluşan sözcük aşağıdakilerden hangisinin ismidir?



12. Aşağıdaki cümlelerin hangisinde hayali unsurlar yer almaktadır?

- A) Kelebek bir gün daha yaşayabilmek için ömrüne ömür dilemiş.
 B) Kaplumbağa yemyeşil otların üzerinde yürürken biz de onu seyrettik.
 C) Gölün kenarında onlarca aile piknik sepetlerini aynı anda açtılar.
 D) Biz yüzyıllardır bu toprakta yaşayan buranın yerlisi bir aileyiz.

13. Aşağıdaki cümlelerin hangisinde "yapay" sözcüğünün zıt anlamlısı kullanılmıştır?

- A) Yaşlı adam bize "Şuradan düz giderseniz köye çıkarsınız." dedi.
 B) Virajlı yollar biter bitmez karşımıza minik bir doğal göl çıktı.
 C) Her şeye huysuzlanan aksi bir adammış dedesi.
 D) İnsanlar buralara kadar doğanın güzelliğini seymeye gelir.

14. Aşağıdaki cümlelerin hangisinde deyim kullanılmamıştır?

- A) Elinden geleni yapsa da hevesi kursağında kaldı.
 B) Gittiği lokantada yediği tatlının tadı damağında kaldı.
 C) Parayı gönderir göndermez hemen haber verdi.
 D) Geleceğini söylediği günden beri gözü yolda kaldı.

15.

1	Meyvelere bakıldığında mevsim yazdır.
2	Anne, baba ve çocuklardan oluşan beş kişilik bir ailedir.
3	Aile, aile büyüklerinin mutfağındadır.
4	Aile bireylerinden en az biri tuz kullanmaktadır.
5	Yemeği yiyecek olanlardan en az bir tanesi et yemektedir.
6	Aile, yemeği misafirleri için hazırlamaktadır.



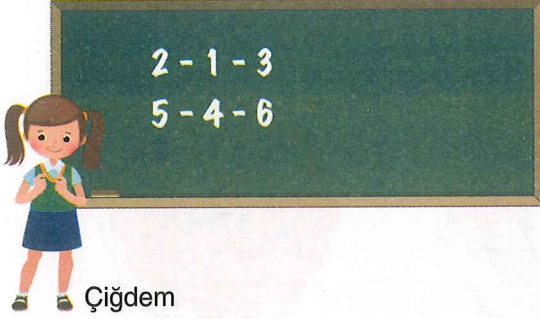
Görsele göre tabloda verilen bilgilerden hangileri kesinlikle doğrudur?

- A) 1 ve 2 B) 3 ve 4 C) 4 ve 5 D) 5 ve 6

**TÜRKÇE TESTİ BİTTİ.
 MATEMATİK TESTİNE GEÇİNİZ.**

MATEMATİK TESTİ

1.



Çiğdem

Çiğdem, tahtada yazan rakamlardan çift olanlarını binler bölümünde, tek olanlarını ise birler bölümünde kullanarak 6 basamaklı en küçük sayıyı oluşturuyor.

Buna göre Çiğdem'in oluşturduğu sayının okunuşu hangi seçenekte verilmiştir?

- A) Yüz yirmi üç bin dört yüz elli altı
B) İki yüz kırk altı bin yüz otuz beş
C) İki yüz kırk beş bin yüz otuz altı
D) İki yüz kırk bir bin altı yüz otuz beş

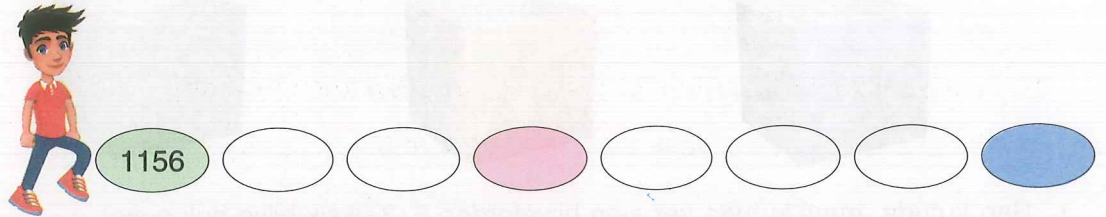
2. 52 355 sayısının çözümlenişi,

$(\blacksquare \times 1000) + (\blacktriangle \times 10.000) + (\bullet \times 100) + (\heartsuit \times 1) + (\clubsuit \times 10)$ şeklindedir.

Buna göre $\blacktriangle \times \bullet$ kaçtır?

- A) 6
B) 10
C) 15
D) 18

3. Murat, önündeki dairelere basarak mavi daireye ulaşmaya çalışıyor.



- 1156'dan başlayıp, biner ileri ritmik sayarak pembe daireye ulaşıyor.
- Pembe daireden sonra da yüzer ileri ritmik sayma yaparak mavi daireye ulaşıyor.

Buna göre Murat mavi dairede hangi sayıyı söyler?

- A) 4556
B) 4456
C) 4146
D) 4050

4. Rakamları farklı 5 basamaklı en küçük doğal sayının binler basamağındaki rakamın basamak değeri kaçtır?

- A) 3000 B) 2000 C) 2 D) 0

5.

I.

$$\begin{array}{r} 3555 \\ + 1564 \\ \hline \end{array}$$

II.

$$\begin{array}{r} 3268 \\ + 2183 \\ \hline \end{array}$$

III.

$$\begin{array}{r} 3372 \\ + 1765 \\ \hline \end{array}$$

Yukarıdaki işlemlerin sonuçlarının büyükten küçüğe sıralanışı hangi seçenekte verilmiştir?

- A) II > III > I B) II > I > III C) III > I > II D) III > II > I

6.

$$\begin{array}{r} 4256 \\ - 1563 \\ \hline \end{array}$$



→

$$\begin{array}{r} \boxed{} \\ - \boxed{} \\ \hline 3262 \end{array}$$

Yukarıda verilen işlemlere göre yerine gelecek sayı kaçtır?

- A) 5850 B) 5950 C) 5955 D) 6100

7. Mavi, sarı ve mor renk kutularda yer alan bilye miktarları aşağıda verilmiştir.



- Sarı kutuda, mavi kutuda yer alan bilyelerden 613 eksik bilye bulunuyor.
- Mor kutuda ise mavi kutuda yer alan bilyelerden 1256 fazla bilye bulunuyor.

Buna göre 3 kutuda toplam kaç bilye vardır?

- A) 6112 B) 6222 C) 6236 D) 6322

8. Aşağıda verilen işlemleri yaparak;


$$\begin{array}{r} 26 \\ + 17 \\ \hline \end{array}$$

$$\begin{array}{r} 25 \\ + 26 \\ \hline \end{array}$$

$$\begin{array}{r} 22 \\ + 37 \\ \hline \end{array}$$

- birler basamağının basamak değeri 4 olan işlemin sembolünü maviye,
- yüzler basamağının basamak değeri 600 olan işlemin sembolünü pembeye,
- onlar basamağının basamak değeri 40 olan işlemin sembolünü ise sarı renge boyuyoruz.

Buna göre doğru boyamalar hangi seçenekte verilmiştir?

- A)  B)  C)  D) 

9.



Bir satıcı, dükkânında bulunan 28 kg'lık un çuvalarından 16 adet sattığında dükkânda bulunan unların yarısını satmış oluyor.

Buna göre dükkânda başta kaç kilogram un vardı?

- A) 448 B) 696 C) 882 D) 896

10. Kalanlı bir bölme işleminde bölen sayı 6, bölüm 14 ise bölünen sayı en fazla kaç olur?

- A) 62 B) 64 C) 84 D) 89

11.



Ali



Kerem



Aras



Can



Mert

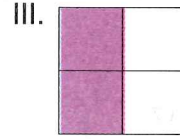
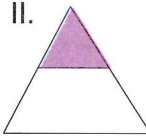
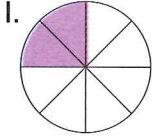


Beş arkadaşın kumbaralarındaki para miktarı belli bir örüntüye göre dizilmiştir. Ali, Kerem, Aras, Can ve Mert paralarını birleştirerek beğendikleri aynı kalemden 5 adet alıyorlar.

Buna göre kalemin tanesi kaç liradır?

- A) 19 B) 18 C) 17 D) 16

12.



Yukarıda verilen kesirlere göre aşağıdaki ifadelerden hangisi yanlıştır?

- A) I. şeklin çeyreği boyanmıştır.
 B) II. şeklin $\frac{1}{2}$ 'si boyanmıştır.
 C) III. şeklin $\frac{2}{4}$ 'ü boyanmıştır.
 D) I. şeklin paydasında 8, payında 2 vardır.

13.



Yukarıdaki dijital saatlerin kaç tanesinin okunuşu doğru verilmiştir?

- A) 1 B) 2 C) 3 D) 4

14. Tanesi 5 lira 25 kuruş olan çikolatadan 1 tane alan Zeynep, satıcıya 9 lira veriyor.

Buna göre Zeynep'in kaç lira para üstü alması gerekir?

- A) 2 lira 25 kuruş B) 3 lira 25 kuruş
 C) 3 lira 75 kuruş D) 4 lira 75 kuruş

15. ABCD dört basamaklı bir sayıdır.

$$A > 5, B > 6, C < 3, D > 8 \text{ ise}$$

ABCD sayısının alabileceği en küçük değer en yakın onluğu kaçtır?

- A) 6750 B) 6730 C) 6710 D) 6709

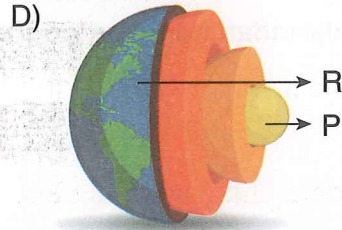
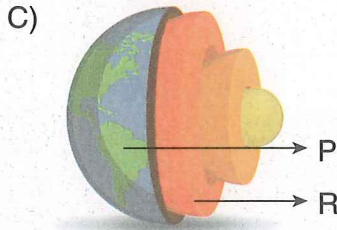

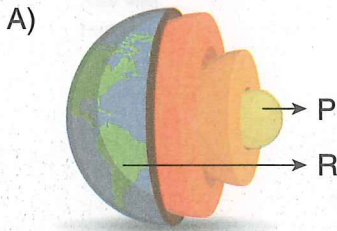
MATEMATİK TESTİ BİTTİ.
FEN BİLİMLERİ TESTİNE GEÇİNİZ.

FEN BİLİMLERİ TESTİ

1. Dünya'nın P ve R katmanları hakkında aşağıdaki bilgiler veriliyor.

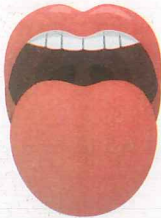
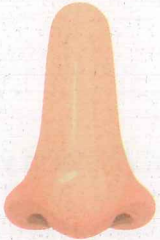
- P katmanı, Dünya'nın en sıcak katmanıdır.
- R katmanı, Dünya yüzeyinde karalara göre daha fazla yer kaplar.

Buna göre P ve R katmanlarının Dünya üzerindeki yerleri aşağıdakilerin hangisinde doğru gösterilmiştir?



2. Dil, deri, burun, kulak ve göz duyu organlarımızdır.

Aşağıda duyu organlarından dört tanesinin görseli verilmiştir.



Buna göre görseli verilmeyen duyu organı ile ilgili,

- Tat alma duysusu organıdır.
- Uzun süre güneş altında kalmak sağlığına zarar verir.
- Tüm vücudumuzu koruyucu bir örtü gibi kaplar.

ifadelerinden hangileri doğrudur?

- A) Yalnız I B) I ve III C) II ve III D) I, II ve III

3. Selim; yaptığı deneyde, 1. durumda elindeki topu aşağı doğru fırlatıyor, top 2. durumda yere çarpıyor. 3. durumda ise yere çarpan top tekrar geldiği yönde harekete başlıyor.



Selim'in yaptığı deneyle ilgili olarak,

- I. Top 1. durumda hızlanma hareketi yapmıştır.
- II. Top yere çarptığında yere itme kuvveti uygulamıştır.
- III. Top 3. durumda yön değiştirme hareketi yapmıştır.

çıkarımlarından hangileri doğrudur?

- A) Yalnız II B) I ve II C) I ve III D) I, II ve III

4. Ahmet, aşağıda numaralanarak verilen maddeleri hâlleriyle eşleştiriyor. Ahmet'in yaptığı eşleştirme şekildeki gibidir.


	Madde		Maddenin Hâli
I.	Su buharı	a.	Gaz
II.	Ayran	b.	Katı
III.	Elma	c.	Sıvı


I.	→	a.
II.	→	b.
III.	→	c.


Buna göre Ahmet'in yaptığı eşleştirmelerden hangileri yanlıştır?

- A) Yalnız II B) I ve II C) I ve III D) II ve III

5. Naci, yapay ve doğal ışık kaynaklarıyla ilgili olarak aşağıdaki sınıflandırmayı yapıyor. Naci'nin yaptığı sınıflandırmayı inceleyen öğretmeni, sınıflandırmada hata olduğunu fark ediyor ve Naci'nin hatasını düzeltmesini istiyor.

I.  → Doğal ışık kaynağı
Güneş

II.  → Yapay ışık kaynağı
Ateş böceği

III.  → Yapay ışık kaynağı
Ay

Buna göre Naci hatasını düzeltebilmek için,

- I. Ay görselinin altına “Doğal ışık kaynağı” yazmalıdır.
II. Ateş böceği görseli yerine el feneri görseli kullanmalıdır.
III. Güneş görseli yerine trafik lambası görseli kullanmalıdır.


İfadelerinden hangilerini yapmalıdır?

- A) Yalnız II B) I ve II C) I ve III D) I, II ve III

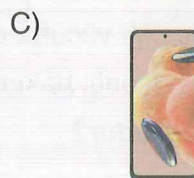
6. Yandaki görselde bazı varlıklar K ve L ile gösterilmiştir.

Buna göre aşağıdaki ifadelerden hangisi doğrudur?

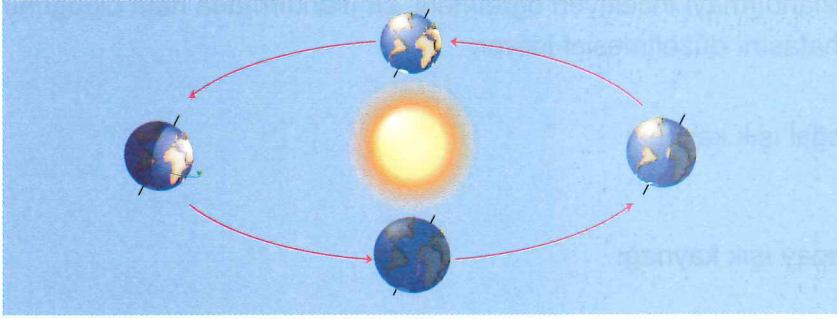
- A) K ile gösterilen varlık cansızdır.
B) K ile gösterilen varlık boşaltım yapmaz.
C) L ile gösterilen varlık kendi besinini üretir.
D) K ve L varlıklarının hareket etme şekli aynıdır.



7. Aşağıdakilerden hangisinin elektrik kaynağı, el fenerinde kullanılan elektrik kaynağı ile aynıdır?



8. Aşağıdaki görselde Dünya'nın bir hareketi gösterilmiştir.



Dünya'nın görseldeki hareketi ile ilgili aşağıdakilerden hangisi yanlıştır?

- A) Dünya'nın dönme hareketidir.
 B) Dünya, bu hareketini bir yılda tamamlar.
 C) Bu hareket sonucunda mevsimler oluşur.
 D) Sandalye kapmaca oynayan çocukların sandalye etrafındaki hareketine benzerlik gösterir.

9.



Kayaçlar ile ilgili hazırlanan şemadaki bilgilerin doğru olması için numaralanarak verilen ifadelerden hangisi çıkarılmalıdır?

- A) 1 B) 2 C) 3 D) 4

10. Aşağıdaki tabloda K, L ve M besin içerikleri ile ilgili ifadeler işaretlenmiştir.

İfadeler	K	L	M
Vücuda enerji verir.	X		
Tüm besinlerde bulunur.		X	
Vücutta yapıcı-onarıcı olarak görev yapar.			X

Buna göre,

- I. K ile gösterilen besin içeriği yağ olabilir.
 II. L ile gösterilen besin içeriği vücutta düzenleyici olarak görev alır.
 III. Et, süt ve balık M besin içeriği bakımından zengindir.


İfadelerinden hangileri doğrudur?

- A) Yalnız I B) I ve II C) II ve III D) I, II ve III

11. Sigara ve alkol ile ilgili aşağıdakilerden hangisi doğrudur?

- A) Alkol ve sigara bağımlılık yapmaz.
- B) Sigara kullanımı kalp krizi riskini artırabilir.
- C) Pasif içiciler sigara dumanından zarar görmez.
- D) Alkol kullanımı en fazla akciğerlere zarar verir.

12. Aşağıda bazı olaylar numaralanarak verilmiştir.



Bu olaylarla ilgili olarak,

- I. 1. olayda cevizde kalıcı şekil değişikliği meydana gelir.
- II. 2. olaydaki yay esnek bir maddedir.
- III. 3. olayda uygulanan kuvvet ortadan kalktığında oyun hamuru eski şekline döner.

Çıkarımlarından hangileri doğrudur?

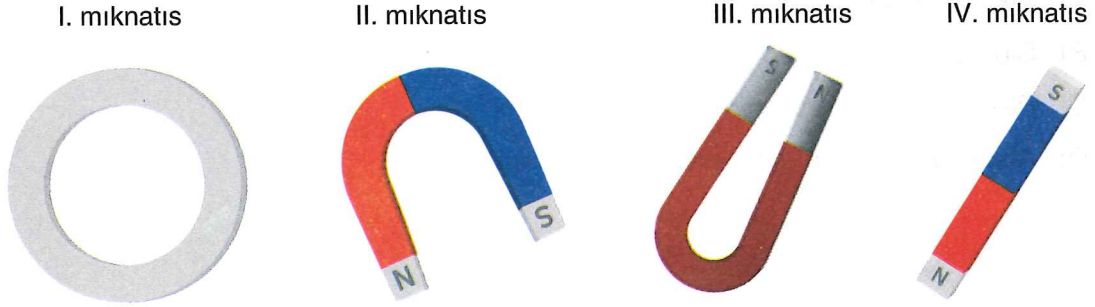
- A) Yalnız II
- B) I ve II
- C) I ve III
- D) I, II ve III

13. Aşağıda bazı mıknatısların itme ve çekme durumları verilmiştir.

Bu durumların hangisinde mıknatısların itme ve çekme durumları yanlış verilmiştir?



14. Aşağıda bazı mıknatıs çeşitleri numaralanarak verilmiştir.



Verilen mıknatıs çeşitleriyle ilgili olarak aşağıdaki ifadelerden hangisi doğrudur?

- A) I. mıknatısın N ve S kutupları yoktur.
 B) Resimdeki tüm mıknatıslar nikel ve kobaltı çeker.
 C) III numaralı mıknatıs U mıknatıs, II numaralı mıknatıs at nalı mıknatıstır.
 D) IV numaralı mıknatısın S kutbuna, başka bir mıknatısın N kutbu yaklaştırılırsa iki mıknatıs birbirini iter.

15. Aşağıdaki olayların hangisinde kuvvetin cisimler üzerindeki hızlandırıcı etkisi gözlenmez?

- A) Kayığa hareketinin tersi yönünde kuvvet uygulamak
 B) Bir cismi yukarıdan bırakmak
 C) Duraktaki otobüsün harekete geçmesi
 D) Durmakta olan market arabasını itmek

**FEN BİLİMLERİ TESTİ BİTTİ.
 SOSYAL BİLGİLER TESTİNE GEÇİNİZ.**

SOSYAL BİLGİLER TESTİ

1.	1.	yaralanma	2.	su kuyusu	3.	gözlük	4.	kaykay
	5.	oyun	6.	peşinden	7.	zarar	8.	dizlik



	Bisiklet, paten,, kızak gibi araçları kaldırımda ve yolda değil uygun alanlarda sürmeliyiz.
	Oyun araçları yola kaçtığına..... gitmemeliyiz.
	İnşaat, kanal ve boş arazilerde oyun oynamamalıyız.
	Bisiklet, kaykay kullanırken kask, ve dirseklik kullanmalıyız.
	Oyun alanlarındaki oyuncaklara vermemeliyiz.



Cümlelerdeki noktalı yerlere tablodaki uygun sözcükleri yerleştirdiğimizde sözcüklerden hangileri açığta kalır?



- A) 1, 3 ve 5 B) 2, 4 ve 6 C) 3, 5 ve 7 D) 4, 6 ve 8



Bitkisel Besinler		Hayvansal Besinler	
1.	Ekmek		Yumurta
2.	Ceviz		Et
3.	Domates		Bal
4.	Mantar		Süt
5.	Fındık		Peynir
6.	Yoğurt		Zeytin
7.	Havuç		Tereyağı
8.	Nohut		Balık

Yukarıdaki tablonun doğru olabilmesi için hangi besinler yer değiştirmelidir?

A)  

B)  


C)  

D)  

3.

“Eğer sizden sokakları süpürmeniz istenirse Micheangelo'nun resim yaptığı, Beethoven'ın beste yaptığı veya Shakespeare'in şiir yaptığı gibi süpürün. O kadar güzel süpürülsün ki gökteki ve yerdeki herkes durup burada dünyanın en iyi çöpçüsü yaşıyormuş desin.”

Martin Luther King Jr.



Yukarıdaki söz aşağıdaki metin konularından hangisiyle ilişkilendirilebilir?

- A) Seçtiğimiz meslekler
B) Sorumluluklarımız
C) Teknolojik ilerlemeler
D) Evde iş bölümü

4. Kendisini başkasının yerine koymaya verilen isim hangisidir?

- A) Düşünce
B) Empati
C) Hoşgörülü
D) Anlayış

5. Aşağıdakilerin hangisi insanların bireysel farklılıklarından biri değildir?

- A) İlgilendiği alanları
B) Hoşlandıkları
C) Yetenekleri
D) Beslenme ihtiyaçları

6. Aşağıdakilerden hangisi kimlik belgemizin çip bölümünde kayıtlı olan bir bilgi değildir?

- A) Doğum yeri
B) Doğum tarihi
C) Dini
D) Kan grubu

7. Olayların oluş sırasına göre sıralanmasına “.....” denir.

Bu cümledeki noktalı yere aşağıdakilerden hangisi yazılmalıdır?

- A) kronoloji B) tarihçe C) tarih şeridi D) olaylar dizisi

8.



1. Annemle beraber annemin köyüne bir düğün için gittik. Ben hayatımda ilk kez bir düğün göreceğim için çok heyecanlıydım. Gittiğimizde düğünden bir gün önce yapılan kına gecesi töreni başlamak üzereydi. Oradaki kadınlar, anneme ve bana yerel bir kıyafet olan ve özel günlerde giyilen bindallıları giydirdiler.
2. Kına gecesi yapılacak alana geldik. Gelin de bindallı giymişti, damat ise takım elbise giymiş omzuna yeşil bir örtü almıştı. O örtünün kırmızısı da gelinin başındaydı. Gelinin ve damadın ellerine türküler eşliğinde kınalar yakıldı. Sonra gelin, oyuna kalktı ve elindeki toprak testiye yere atıp kırdı. Çocuklar testinin içinden dökülen bozuk paraları topladılar.
3. Masaya gelen üç katlı pasta kılıçlarla kesildi, gelin ve damat pastayı birbirine yedirdi. İnsanlar üstünü değiştirmeye gitti ve döndüklerinde korkutucu kıyafetler giydiklerini gördük. Işıklılandırılmış bal kabakları ve bu kıyafetlerle herkesi korkutmaya çalıştılar.
4. Sonrasında minik bezlerin içine hazırlanan kuru yemiş ve kınalar gelenlere dağıtıldı. Sonrasında oyun oynandı, halaylar çekildi. Bir süre sonra damat evi denilen, damat ve akrabaları kendi evlerine dönerken gelin tarafı denilen, gelinin arkadaş ve akrabaları eğlenmeye devam etti.

Yukarıdaki metnin hangi bölümünde millî kültürümüzle uyuşmayan unsurlardan söz edilmiştir?

- A) 1 B) 2 C) 3 D) 4

9.

1.	Elimsende	2.	Körebe	3.	Aç kapıyı bezirgânbaşı	4.	Beştaş
5.	Birdirbir	6.	Hentbol	7.	Saklambaç	8.	Futbol

Tablodaki oyunlardan hangileri geleneksel çocuk oyunlarından değildir?

- A) 1 ve 2 B) 4 ve 7 C) 6 ve 8 D) 2 ve 6

10. Aşağıdakilerin hangisi Atatürk'ün Samsun'a çıktıktan sonra toplantı yaptığı illerden biri değildir?

- A) Sakarya B) Erzurum C) Sivas D) Amasya

11.


I.	I. İnönü	✓
II.	Büyük Taarruz	✗
III.	Sakarya	✓
IV.	Kütahya-Eskişehir	✗


Tabloda Türk birliklerinin kazandıkları savaşlara "✓", kaybettikleri savaşlara "✗" konulmuştur.


Buna göre tabloda hangi savaşın sonucu yanlış işaretlenmiştir?

- A) I B) II C) III D) IV

12. Aşağıdakilerin hangisinin gösterdiği yön diğerlerinden farklıdır?

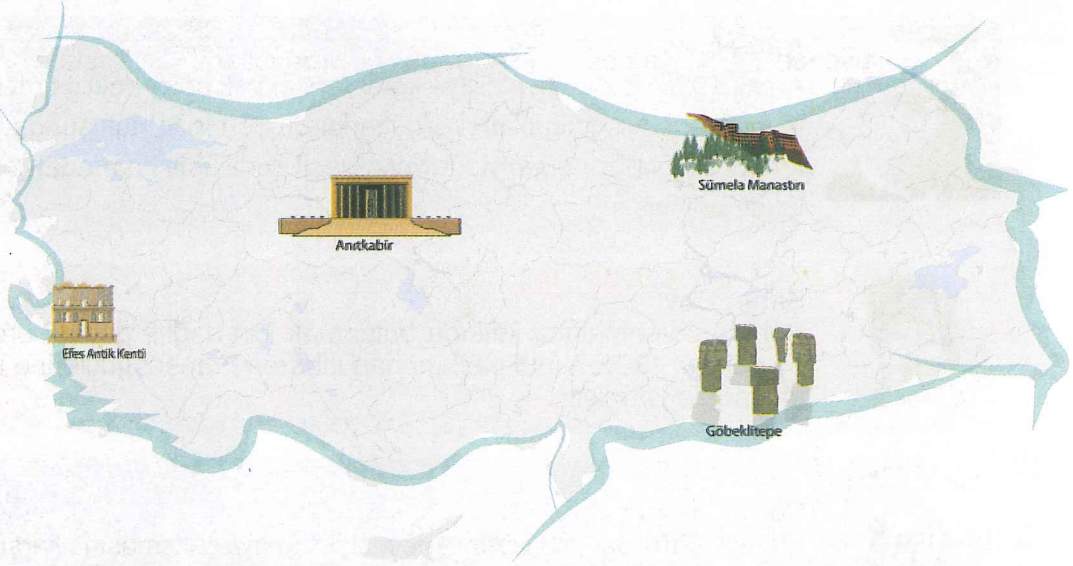
A)  Ağaçların yosunlu yüzü

B)  Karınca yuvalarının toprak yığılı kısmı

C)  Minarelerin şerefe kapıları

D)  Kutup yıldızı

13.



1

İzmir'in kavakları dökülür yaprakları
Bize de derler çakırcı yar fidan boylum yıkarız konakları

2

Ankara'nın taşına bak
Gözlerimin yaşına bak
Uyan uyan Gazi Kemal
Şu feleğin işine bak

3

Maçka yolları taşlı
Geliyor kalem kaşlı
Ne oldu sana yavrurum
Böyle gözlerin yaşlı

4

Urfa'nın etrafı dumanlı dağlar
İçerim yanıyor yar yar
Gözlerim ağlar.

Yukarıdaki türkülerden hangisi "Göbeklitepe benim yaşadığım ildir." diyen bir kişinin şehrine aittir?

A) 1

B) 2

C) 3

D) 4

14.

I

**Ali Saip**

Aralık 1920'de Kuvâ-yı Millîye komutanı olarak bölgedeki aşiret reislerini Fransız işgaline karşı örgütlendirdi. Şehrin kurtuluşunda gösterdiği başarılar nedeniyle kırmızı-yeşil şeritli istiklal madalyasıyla takdir edilmiştir.

II

**Şahin Bey**

Şehrin savunmasına katkıda bulunmak için dağlık güçleri organize ederek 1920 yılının başlarından itibaren Fransız güçlerine karşı mücadele vermiştir.

III

**Sütçü İmam**

Fransızların Türk kadınlarının peçesini açmaya çalışmasına karşın, 31 Ekim 1919'da düşmana ilk kurşunu atan Millî Mücadele kahramanıdır.

IV

**Hasan Tahsin**

15 Mayıs 1919'da çıkartma yapan Yunan askerlerine, Kordonboyu'ndan ilk kurşunu atan ve Türk direnişini başlatan gazetecidir.

Yukarıda verilen Millî Mücadele kahramanlarından hangisinin başarı gösterdiği cephe diğerlerinden farklıdır?

- A) I B) II C) III D) IV

15. Ankara, Millî Mücadele'nin kesin olarak merkezi oldu.

Yukarıdaki noktalı yere aşağıdakilerden hangisi yazılmalıdır?

- A) Mondros Antlaşması imzalanınca
B) TBMM'nin açılmasıyla
C) Başkomutanlık Meydan Muharebesi kazanılınca
D) Cumhuriyet'in ilan edilmesiyle birlikte

**SOSYAL BİLGİLER TESTİ BİTTİ.
İNGİLİZCE TESTİNE GEÇİNİZ.**

İNGİLİZCE TESTİ

1.



Tom: What do you do in the afternoon?

Julia: I _____.

- A) play with my friends
- B) have a shower
- C) have lunch at the school canteen
- D) get dressed

2.



Bill: Can you _____?

Tom: Yes, I can.

- A) ride a horse
- B) swim
- C) climb a tree
- D) take pictures

3.



Carol: How many students are there in the class?

Katie: There are _____ students in the class.


- A) four B) five C) two D) six

4. **Teacher:** Raise your hand, please.

Tom: Ok, sir.

Aşağıda verilen resimlerden hangisi öğretmenin cümlesini ifade eder?

A)



B)



C)



D)



5. **Ann:** What do you do _____ night?

Katie: I usually read a book.

- A) on B) at C) in D) from

**SINAV BİTTİ.
CEVAPLARINIZI KONTROL EDİNİZ.**